

Mon fichier
de numération n°7

Les nombres de 0 à 70



Ecole de Crevette

Nombres et quantités : de 0 à 70



1 Complète avec le bon nombre :

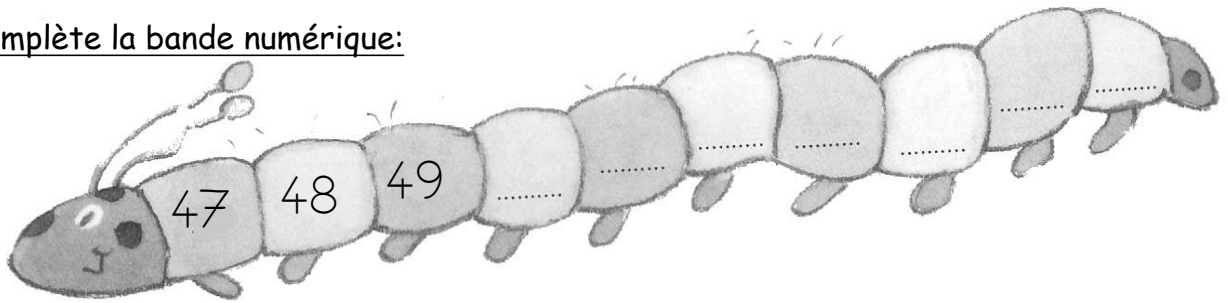
□

□

□

□

2 Complète la bande numérique:




Nombres et quantités : de 0 à 70

1 Complète les cases grises du tableau des nombres

	21								
						36			
		42							
50					55				
									69

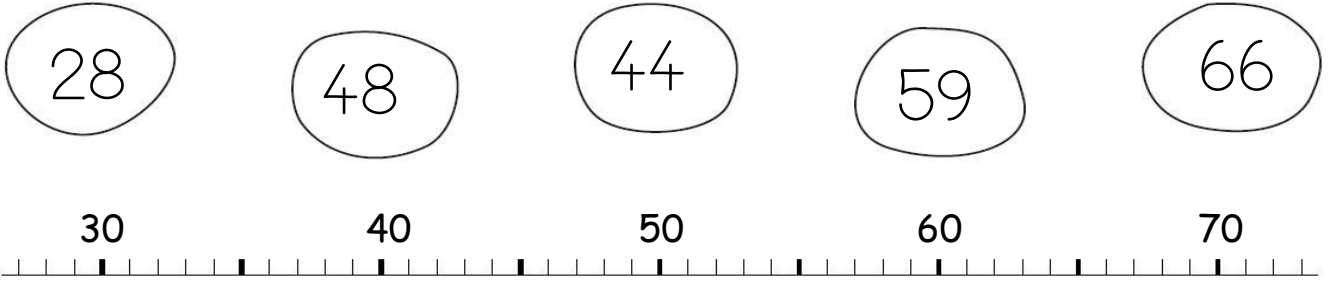
2 Colorie les pièces et billets correspondants à la somme dans la tirelire :



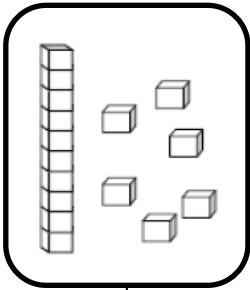
Nombres et quantités : de 0 à 70




1 Relie les nombres à leur place sur la droite graduée




2 Dessine le nombre en barres




16



66



57

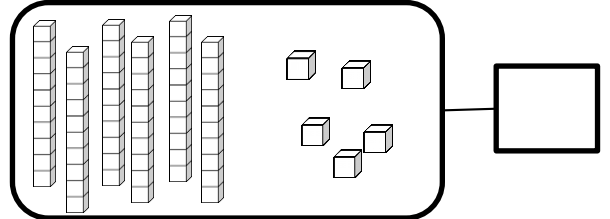
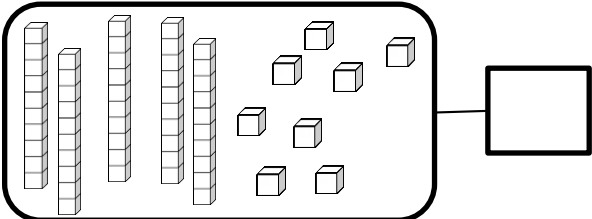
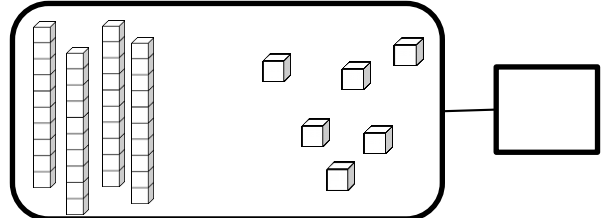
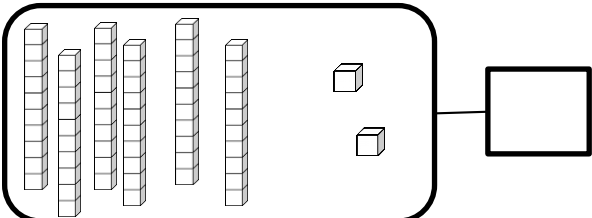


61


Nombres et quantités : de 0 à 70



1 Complète avec le bon nombre :



2 Complète la bande numérique:



Nombres et quantités: de 0 à 70



1 Aide-toi des étiquettes pour écrire les nombres

66	
58	
62	

deux


six

huit

cinquante

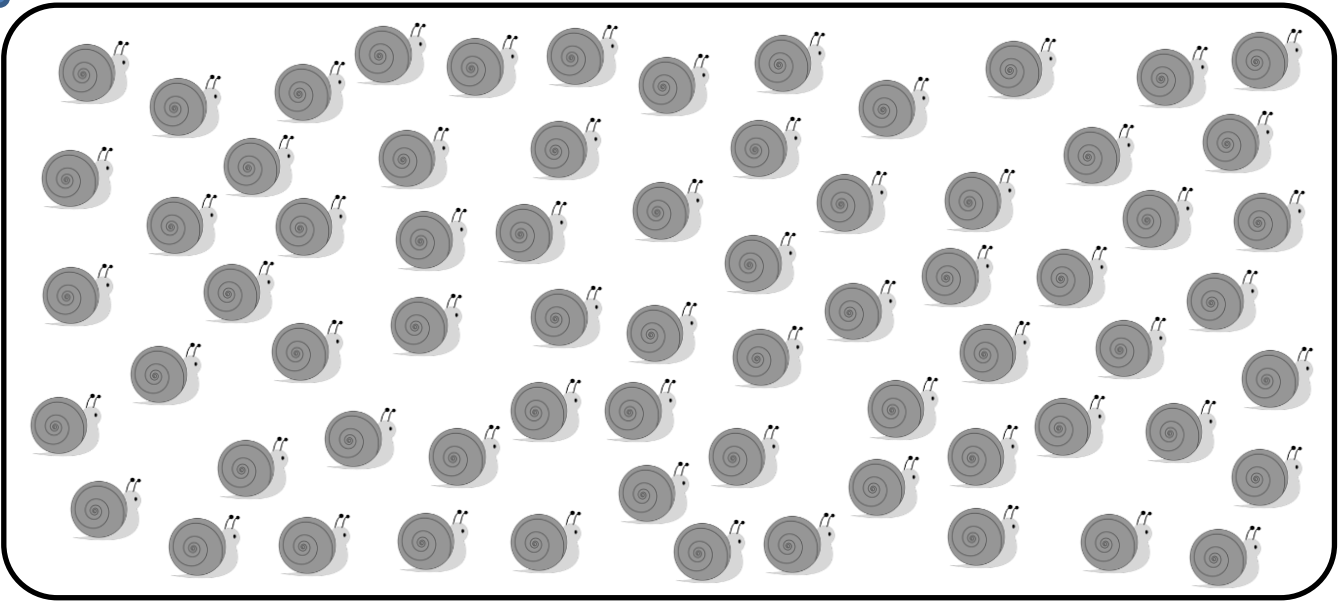
soixante


2 Complète



Nombres et quantités: de 0 à 70

1 Compte en faisant des paquets de 10





Nombres et quantités: de 0 à 70



1 Aide-toi des étiquettes pour écrire les nombres

65	
59	
63	

- trois
- cinq
- neuf
- cinquante
- soixante

2 Ecris les nombres dans l'ordre décroissant, du plus grand au plus petit:

59 - 69 - 55 - 24 - 35 - 49

□ □ □ □ □ □

Nombres et quantités : de 0 à 70

1 Complète le tableau des nombres

	21								
						36			
		42							
50					55				
									69

2 Trouve combien Arthur a d'argent dans sa tirelire :

Nombres et quantités : de 0 à 70



1 Relie les nombres à leur place sur la droite graduée

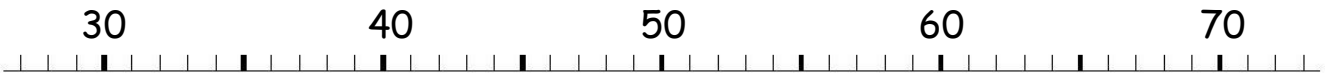
37

35


56

68

63



2 Complète



Nombres et quantités : de 0 à 70

1 Aide-toi des étiquettes pour écrire les nombres

62	
27	
69	

deux

sept

neuf

vingt

soixante

2 Ecris les nombres dans l'ordre croissant, du plus petit au plus grand:

41 - 26 - 47 - 63 - 20 - 50


□ □ □ □ □ □

Nombres et quantités: de 0 à 70

1 Calcule puis vérifie en faisant avancer la grenouille.



32	+1		+10		-1		+10	
----	----	--	-----	--	----	--	-----	--

20	21	22	23	24	25	26	27	28	29
30	31		33	34	35	36	37	38	39
40	41	42	43	44	45	46	47	48	49
50	51	52	53	54	55	56	57	58	59
60	61	62	63	64	65	66	67	68	69

Nombres et quantités: de 0 à 70

1 Complète



$$34 = 30 + 4$$

$$63 = _ + _$$

$$52 = _ + _$$

$$58 = _ + _$$

$$61 = _ + _$$


$$47 = _ + _$$

$$37 = _ + _$$

$$45 = _ + _$$

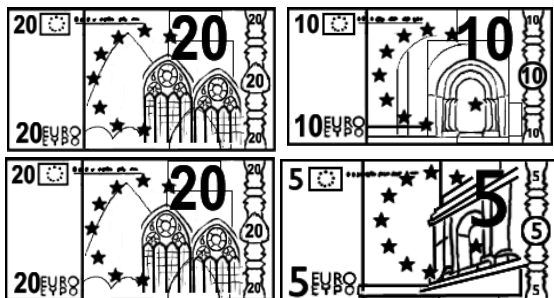
$$64 = _ + _$$

2 Complète

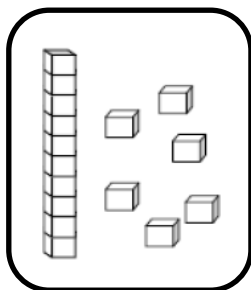


Nombres et quantités: de 0 à 70


1 Colorie les pièces et billets correspondants à la somme dans la tirelire :




2 Dessine le nombre en barres




16



62



56



67

Nombres et quantités : de 0 à 70



1 Colorie de la même couleur ce qui est identique:

63

soixante-trois

soixante-sept

$60+7$

65

$60+5$

69

$60+3$

$60+9$

soixante-cinq

61

67

$60+1$


soixante-neuf

soixante-et-un

Nombres et quantités: de 0 à 70



1 Complète



2 Trouve le nombre qui vient avant et celui qui vient après

<input type="text"/>	69	<input type="text"/>
<input type="text"/>	62	<input type="text"/>
<input type="text"/>	59	<input type="text"/>


<input type="text"/>	40	<input type="text"/>
<input type="text"/>	64	<input type="text"/>
<input type="text"/>	67	<input type="text"/>

Nombres et quantités : de 0 à 70

1 Calcule puis vérifie en faisant avancer la grenouille.



57	-10		-1		-1		-10	
----	-----	--	----	--	----	--	-----	--

20	21	22	23	24	25	26	27	28	29
30	31	32	33	34	35	36	37	38	39
40	41	42	43	44	45	46	47	48	49
50	51	52	53	54	55	56		58	59
60	61	62	63	64	65	66	67	68	69

Nombres et quantités : de 0 à 70



1 Colorie de la même couleur ce qui est identique:

64

soixante-huit

soixante-quatre

soixante-deux

$60+8$

66

soixante-six

$60+4$

$60+9$

$60+2$

69

68

soixante-neuf

$60+6$

62

Nombres et quantités: de 0 à 70




1 Ecris les nombres dans l'ordre croissant, du plus petit au plus grand:

52 - 63 - 51 - 65 - 68 - 58

□ □ □ □ □ □

2 Trouve combien Arthur a d'argent dans sa tirelire :



Nombres et quantités : de 0 à 70

3



15

1 Complète avec $<$, $>$ ou $=$:

62

.....

26

62

.....

42

46

.....

66

40

.....

50

60

.....

65

65

.....

9

2 Ecris les nombres dans l'ordre croissant, du plus grand au plus petit :

14 - 25 - 36 - 41 - 52 - 63

Nombres et quantités: de 0 à 70



1 Trouve le nombre qui vient avant et celui qui vient après

68

60

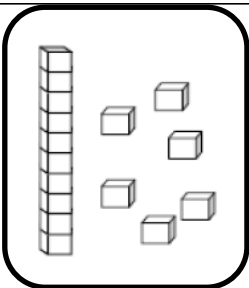
61

53

35

69

2 Dessine le nombre en barres



16

65

37

48

Nombres et quantités : de 0 à 70



1 Relie les nombres à leur place sur la droite graduée

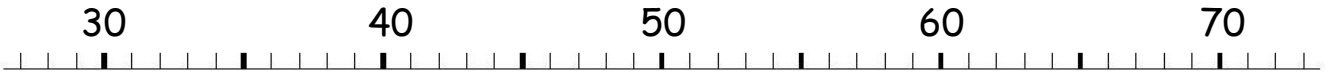
36

32

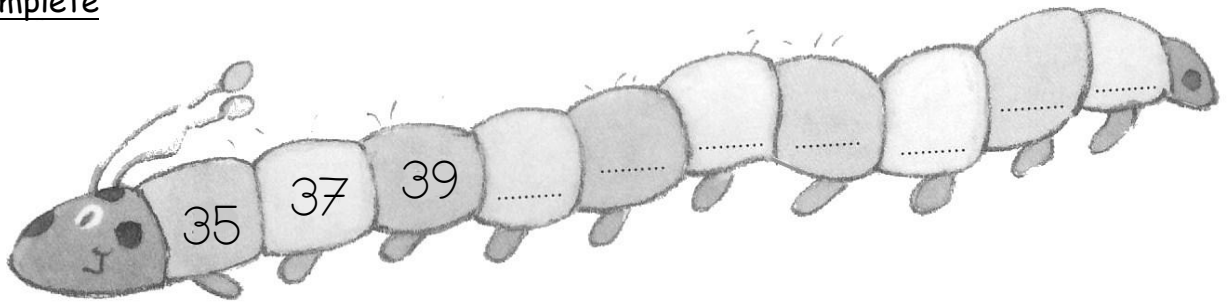
49

67

61



2 Complète



Nombres et quantités : de 0 à 70

3  15

1 Complète avec $<$, $>$ ou $=$:

61 $60 + 8$

$60 + 3$ 59

66 $50 + 8$

$50 + 9$ 65

67 $60 + 5$

$60 + 7$ 66

2 Ecris les nombres dans l'ordre croissant, du plus petit au plus grand:

52 - 12 - 68 - 47 - 45 - 62

□ □ □ □ □ □