




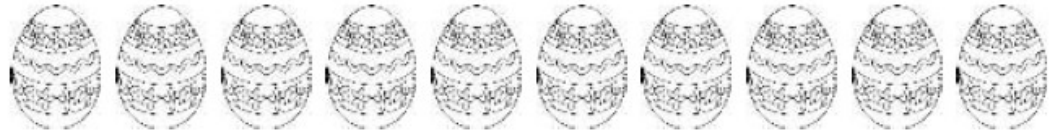
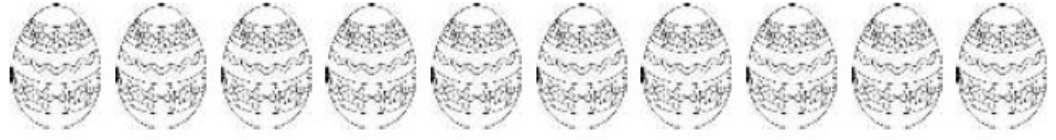
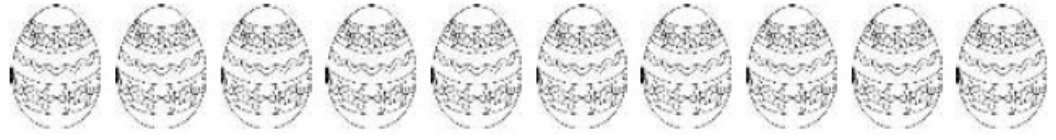
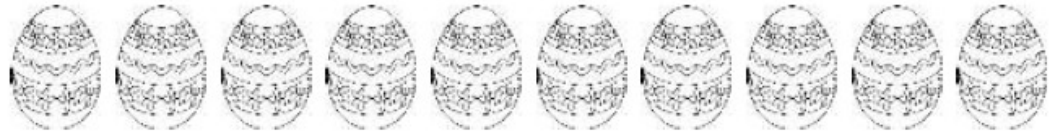
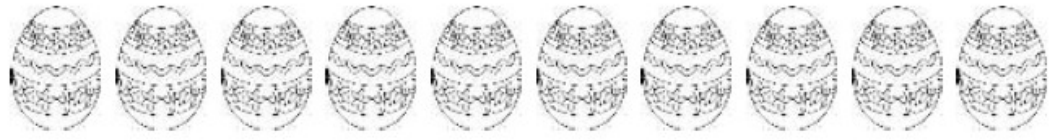

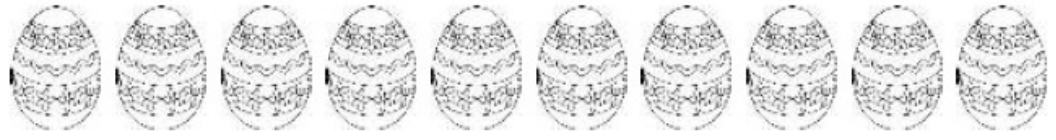
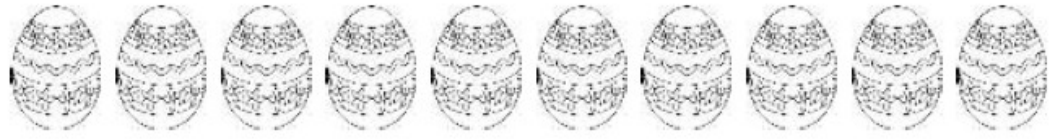
Lettres à découper pour la fiche 6

E	L		E	M	M	O	H	N	O	B
'	D		A	R	L	V	I			
e	l		e	m	m	o	h	n	o	b
'	d		a	r	l	v	i			

**GS - fiche 8**

Objectifs : effectuer des calculs simples, reconnaître les nombres.

Consignes : Colorie autant d'œufs en vert que l'indique le nombre e, vert et autant d'œufs en bleu que l'indique le nombre en bleu. Calcule l'addition et compte tous les œufs pour vérifier ton résultat.

$4+2$	
$1+6$	
$3+2$	
$7+3$	
$4+0$	
$2+5$	
$3+3$	
$9+1$	
$5+2$	
$3+6$	